



به نام خدا
مدارهای الکتریکی ۱
تمرین سری چهارم

زمان تمویل: ۹۵/۸/۲۳

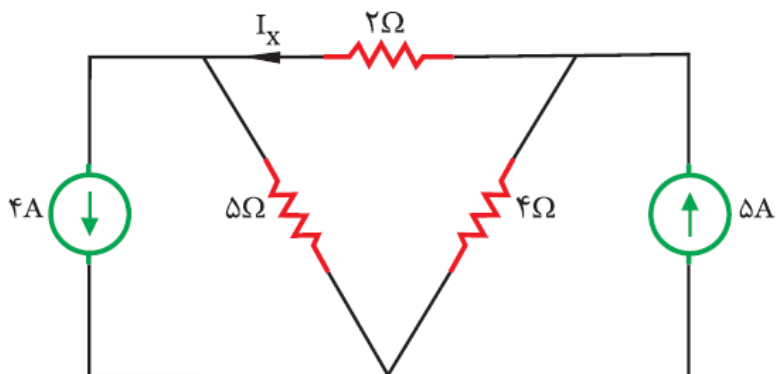
موضوع: KVL & KCL

موسسه آموزش عالی خزر
غیرانتفاعی و غیردولتی

متن پرسش

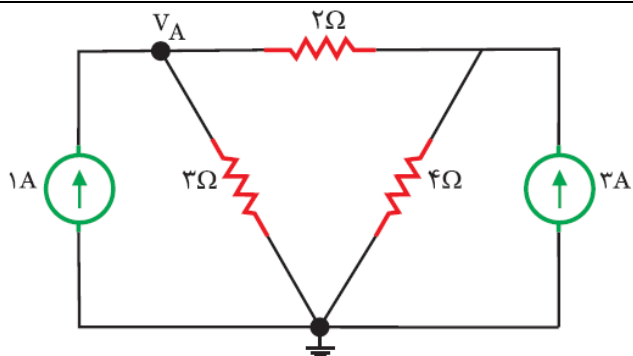
ردیف

جریان I_x را بدست آورید.



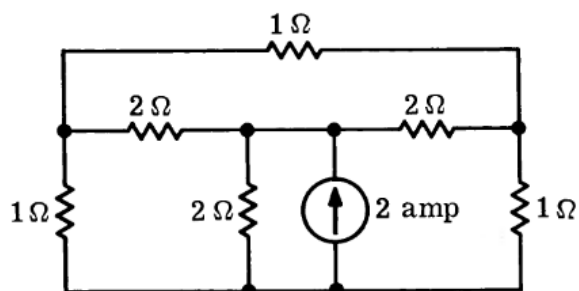
۱

مقدار V_A را بدست آورید.



۲

جریان تمام مقاومتها را بدست آورید.



۳

جریان i را بدست آورید.

