



به نام خدا
مدارهای الکتریکی ۲
تمرین سری دوم

موسسه آموزش عالی خزر
غیرانتفاعی و غیردولتی

زمان تمویل: ۹۴/۸/۱۶

موضوع: مرور مدارا

متن پرسش

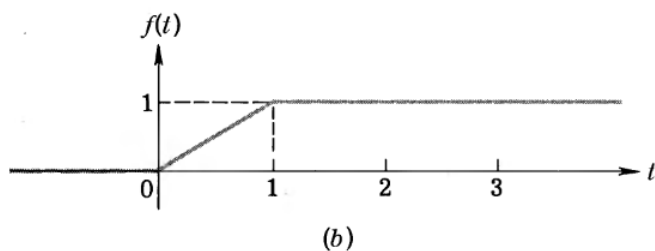
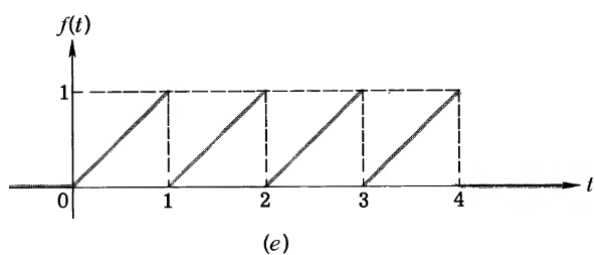
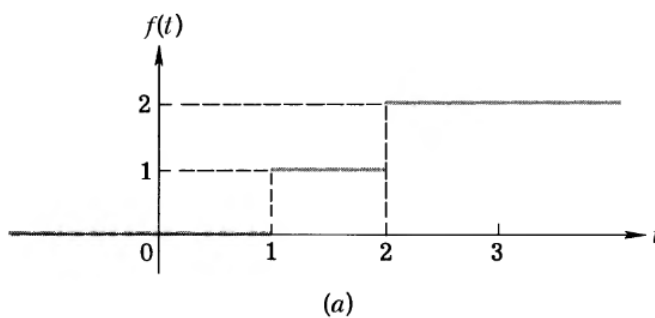
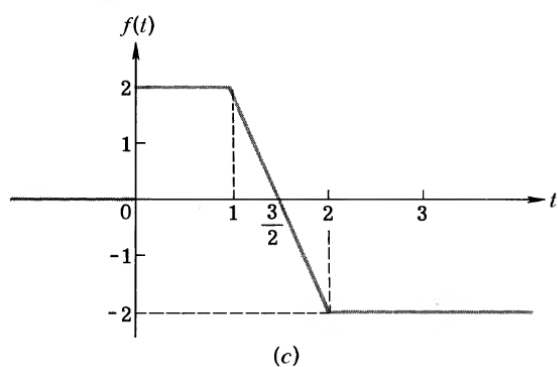
(دیف)

- a. $3u(t)-3u(t-2)$
- b. $r(t)-u(t-1)-r(t-1)$
- c. $r(t)\sin(t)$
- d. $u(2t)$

توابع زیر را رسم کنید.

۱

تابع شکل‌های زیر را بدست آورید.



۲