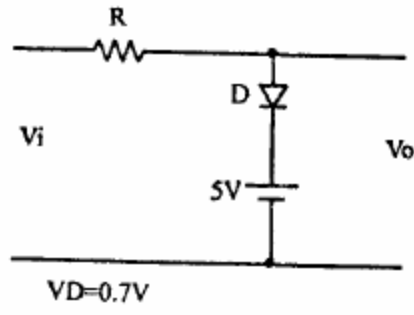
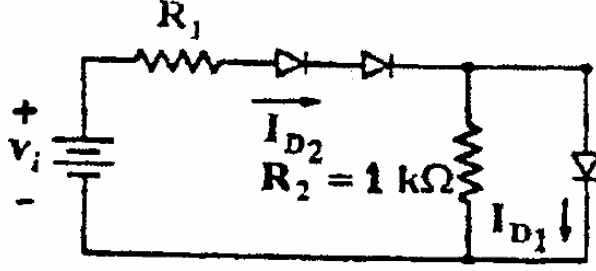
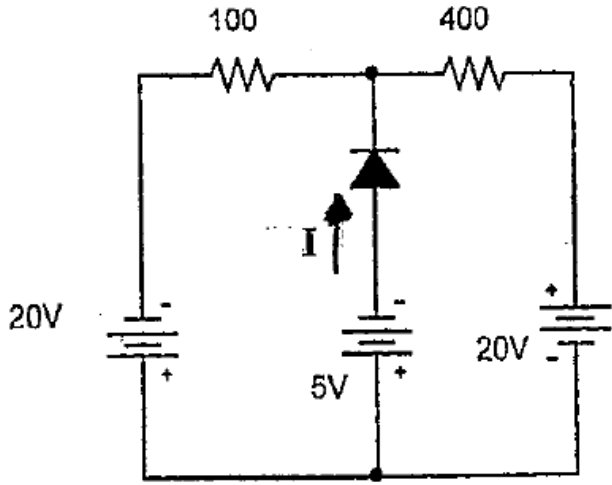
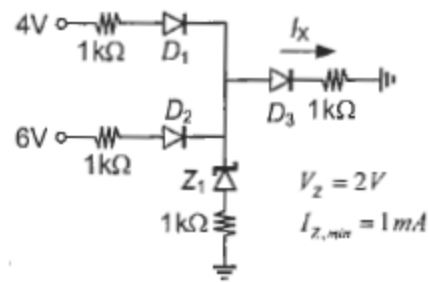


متن پرسش	ردیف
	<p>مشخصه ورودی-خروجی مدار مقابل را رسم نمایید.</p> <p>۱</p>
	<p>مقاومت R_1 را طوری حساب کنید که جریان I_{D1} نصف جریان I_{D2} شود.</p> <p>$V_D = 0.6v, V_i = 5v$</p> <p>۲</p>
	<p>جریان I را بدست آورید.</p> <p>۳</p>
	<p>در شکل مقابل دیودها ایده‌آل هستند. جریان I_x را بدست آورید.</p> <p>۴</p>