

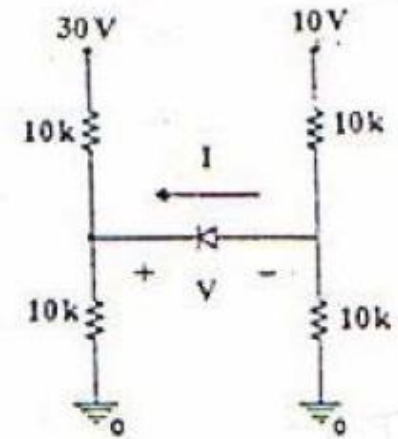
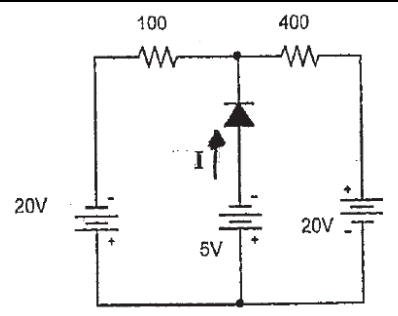
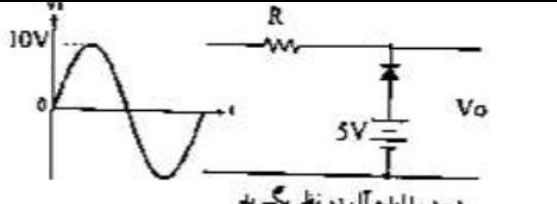
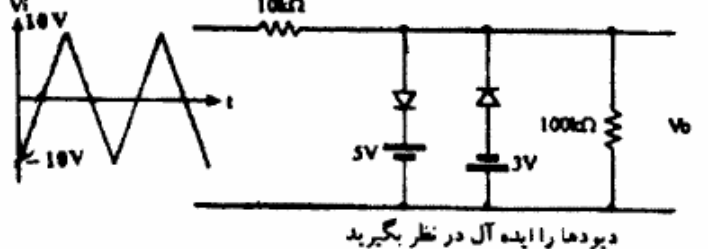
به نام خدا

تمرین سری اول

زمان تمویل: ۹۴/۸/۱۹



موسسه آموزش عالی خزر
غیرانتفاعی و غیردولتی

متن پرسش	ردیف
 <p>در شکل مقابل جریان I و ولتاژ V را بدست آورید.</p>	۱
 <p>در مدار مقابل جریان I را بدست آورید.</p>	۲
 <p>در مدار مقابل شکل ولتاژ خروجی (V_o) را رسم کنید.</p> <p>دیدگاه را ایده آل در نظر بگیرید</p>	۳
 <p>در مدار مقابل شکل ولتاژ خروجی (V_o) را رسم کنید.</p> <p>دیدگاهها را ایده آل در نظر بگیرید</p>	۴