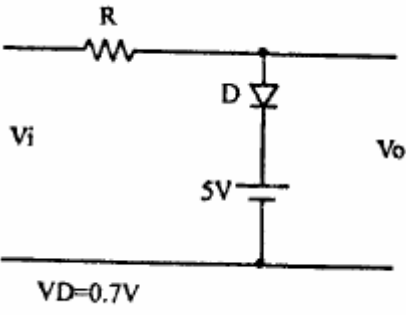
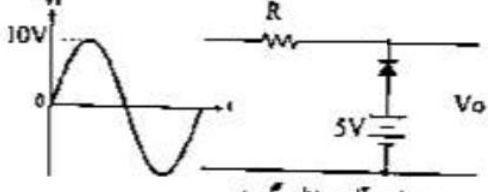
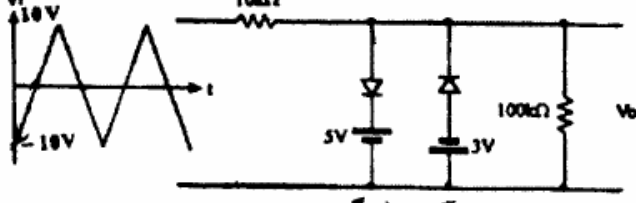


به نام خدا
تمرین سری دوم



موسسه آموزش عالی خزر
غیرانتفاعی و غیردولتی

زمان تمویل: ۹۵/۸/۱۶

متن پرسش	(دیف)
<p>مشخصه ورودی-خروجی مدار مقابل را رسم نمایید.</p> 	۱
<p>در مدار مقابل شکل ولتاژ خروجی (V_o) را رسم کنید.</p>  <p>دیدگاه را ایده آل در نظر بگیرید</p>	۲
<p>در مدار مقابل شکل ولتاژ خروجی (V_o) را رسم کنید.</p>  <p>دیودها را ایده آل در نظر بگیرید</p>	۳