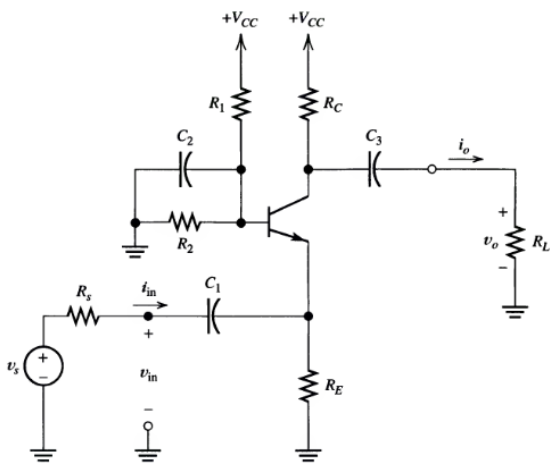
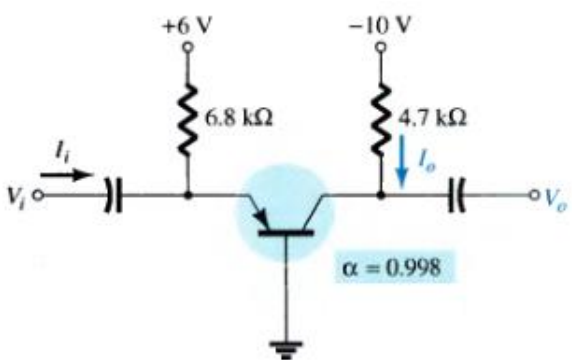
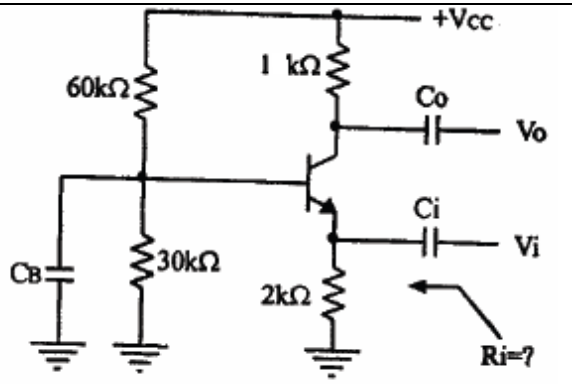


متن پرسش	ردیف
<p>در مدارهای زیر مطلوبست:</p> <p>الف: شرایط بایاس ب: ضریب تقویت ولتاژ ج: ضریب تقویت جریان د: مقاومت ورودی و خروجی</p>   	<p>۱</p>
<p>در مدار مقابل مطلوبست:</p> <p>الف: بایاس مدار ب: ضریب تقویت مدار ج: مقاومت ورودی</p> <p>$V_{BE} = 0.6v, \beta = 100, V_{CC} = 9v$</p>	<p>۲</p>